

St. Ursula Girls' High School Nagpur
FINAL TERM EXAMINATION – 2020

Class : V (C)

Time : 1 Hr.

Subject : History - Civics

Marks : 20

प्र. 1 ला अ) निम्नलिखित कोष्ठक में से उचित विकल्प चुनकर लिखो :- (02)

- अ) जिस कालखंड के हथियारों में प्रमुखतः पत्थर के हथियार पाडा जाते है ; उस कालखंड को हम कहे हैं। (ताम्र युग, लौह युग, अश्म युग)
- आ) महाराष्ट्र में पुराश्मयुगीन स्थानों में से नाशिक के निकट स्थान प्रसिध्द है। (गंगापुर, सिन्नर, चांदवड़)
- इ) लगभग ग्यारह हजार वर्ष पूर्व कृषि के प्रणाम सबसे पहले इजराइल और में पाडा गए। (ईरान, इराक, दुबई)
- ई) नवाश्म युग के प्रारंभ में मकान बनाए जाते थे। (मिट्टी के, इटों के, चिकनी मिट्टी के)

प्र. 2 रा. अ) निम्नलिखित प्रश्नों के एक वाक्य में उत्तर लिखो :- (कोई तीन) (03)

1. बुद्धिमान मानव किन प्राणियों का शिकार अधिक मात्रा में करता था ?
2. नवाश्मयुगीन संस्कृति की क्या विशेषता है ?
3. नवाश्मयुगीन संस्कृति का विकास कहाँ हुआ?
4. हड़प्पा संस्कृति के श्रमिक किन वस्तुओं को बनाने में कुशल थे?

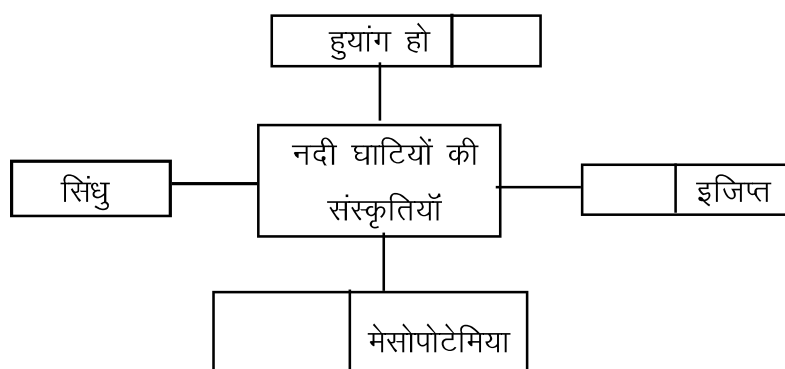
ब) निम्नलिखित कथनों के कारण लिखो :- (कोई एक) (02)

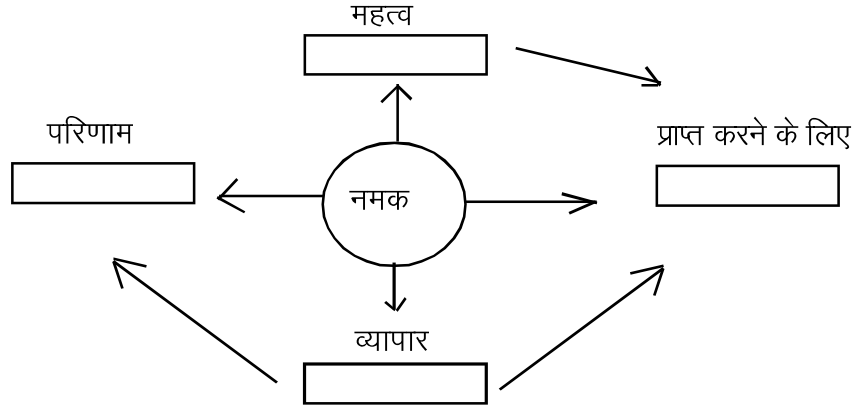
1. मध्याश्म युग में बुद्धिमान मानव की भोजन पध्दति में बदलाव हो रहा था।
2. मनुष्य एक स्थान पर दीर्घ समय तक रहने लगा।

प्र. 3 रा. अ) निम्नलिखित प्रश्नों के संक्षेप में उत्तर लिखिए :- (कोई दो) (03)

1. हड़प्पा संस्कृति के नगरों की संरचना किस प्रकार की थी?
2. मनुष्य द्वारा किसी पशु को पालतू बनाए जाने की प्रक्रिया के तीन प्रमुख चरण कौन-से है ?
3. मानव ने आघात तकनीकी का उपयोग किस प्रकार किया ?

प्र. 2 रा ब) निम्नलिखित संकल्पना चित्र पूर्ण करो :- (कोई एक) (02)





प्र. 4 था अ) निम्नलिखित घटक कालखंड के अनुसार उचित क्रम से लिखो –


- अ) 1) तांबा 2) स्वर्ण 3) लौह
1) 2) 3)

- आ) 1) ताम्र युग 2) लौह युग 3) अश्म युग
1) 2) 3)

ब) निम्नलिखित टिप्पणियाँ लिखो :- (कोई एक)

1. धातु का उपयोग
2. नगरीय समाज व्यवस्था

क) मध्याश्म युग के अस्थायी आवासों के काल्पनिक चित्र का निरीक्षण करो और प्रश्नों के उत्तर लिखो – (कोई एक)



1. चित्र में दिखाई देनेवाले आवासों की संरचना कैसी है?
2. अस्थायी आवास के मनुष्य कौन से व्यवसाय करते होंगे?

नागरिक शास्त्र

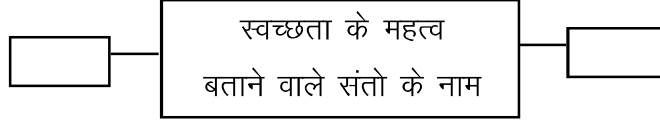
प्र. 1 ला) निम्नलिखित रिक्त स्थानों की पूर्ति करो :- (01)

- अ. मनुष्य विचारशील होता है, साथ – साथ वह भी होता है।
आ. हमें सुविधाओं का उपयोग करना चाहिए।

प्र. 2 रा) निम्नलिखित प्रश्नों के उत्तर दो-तीन वाक्यों में लिखो :- (कोई एक) (02)

1. क्रोध के कौन-से दुष्परिणाम होते हैं ?
2. हम कौन-कौन-सी सार्वजनिक सेवाओं का उपयोग करते हैं?
3. शांति के लिए पूरक वातावरण का निर्माण किस प्रकार किया जा सकता है?

प्र. 3 रा) आकृति पूर्ण करो –



प्र. 4 था) क्या होगा, लिखो :- (कोई एक) (01)

1. यदि लड़के – लड़कियों को शिक्षा का समान अधिकार न दिया जाए, तो।
- 2.. यदि समाज विद्यालय को सहयोग न दे तो।