

**St. Ursula Girls' High School Nagpur**  
**FINAL TERM EXAMINATION – 2020**

**Class : V (B)**

**Time : 1 Hr.**

**Subject : History - Civics**

**Marks : 20**

**प्र. 1 ला अ) रिकाम्या जागी कंसातील योग्य पर्याय लिहा :- (02)**

- अ) ज्या काळातील हत्यारांमध्ये प्रामुख्याने दगडाची हत्यारे मिळतात, त्या काळाला आपण ..... असे म्हणतो.  
(ताम्रयुग, लोहयुग, अश्मयुग)
- आ) महाराष्ट्रातील पुराश्युगीन स्थळांपैकी नाशिक जवळचे ..... हे स्थळ प्रसिध्द आहे.  
(गंगापुर, सिन्नर, चांदवड)
- इ) शेतीचे सुमारे अकरा हजार वर्षापूर्वीचे पुरावे प्रथम इस्राईल आणि ..... येथे मिळाले आहेत.  
(इराण, इराक, दुबई)
- ई) नवाश्मयुगाच्या सुरुवातीलां ..... घरे बांधली जात होती.  
(मातीची, विटांची, कुडांची)

**प्र. 2 रा. अ) पुढील प्रश्नांची प्रत्येकी एका वाक्यात उत्तरे लिहा :- (कोणतेही तीन) (03)**

1. बुद्धिमान मानव सर्वात जास्त कोणत्या प्राण्यांची शिकार करायचा?
2. नवाश्मयुगीन संस्कृतीचे वैशिष्ट्य कोणते?
3. नवाश्मयुगीन संस्कृतीचे विकास कोठे झाला?
4. हडप्पा संस्कृतीचे कासगीर कोणत्या वस्तू बनवण्यात कुशल होते?

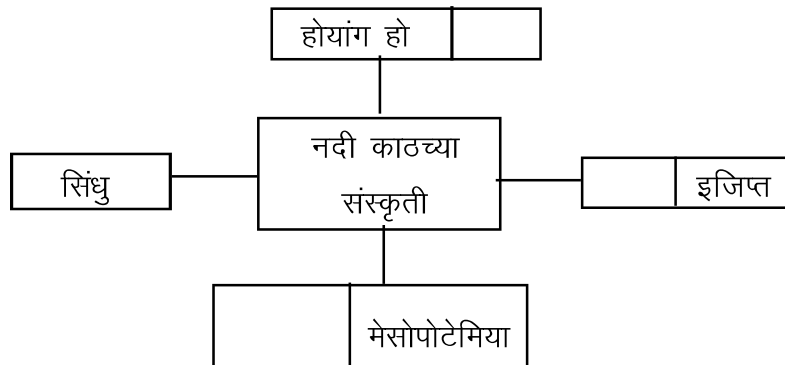
**ब) पुढील विधानांची कारणे लिहा :- (कोणतेही एक) (02)**

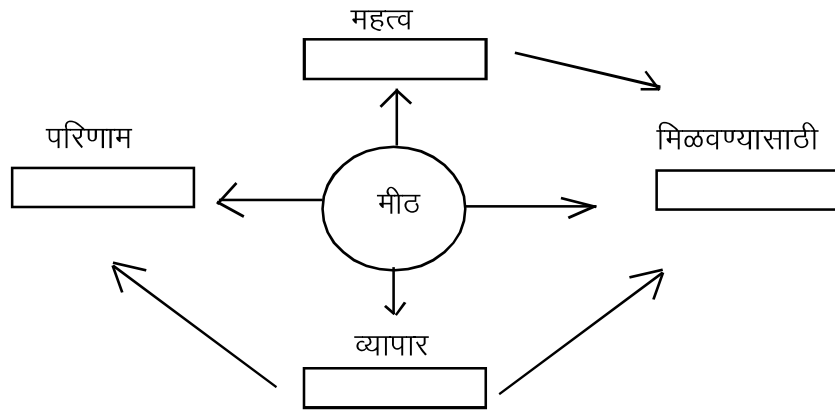
1. मध्याश्मयुगात बुद्धिमान मानवाच्या आहार पध्दतीत बदल होत होता.
2. मानव एके ठिकाणी दीर्घकाळ मुक्काम करू लागला.

**प्र. 3 रा. अ) पुढील प्रश्नांची थोडक्यात उत्तरे लिहा. (कोणतेही दोन) (03)**

1. हडप्पा संस्कृतीच्या नगरांची रचना कोणत्या प्रकारची होती?
2. एखादी प्राणिजात माणसाळवण्याच्या प्रक्रियेच्या तीन मुख्य पायऱ्या कोणत्या?
3. आघात तंत्राचा वापर मानवाने कसा केला?

**ब) निम्नलिखित संकल्पना चित्र पूर्ण करा :- (कोणतेही एक) (02)**





प्र. 4 था अ) पुढील घटक काळानुसार योग्य क्रमाने लिहा -

(1)

- अ) 1) तांबे 2) सोने 3) लोखंड  
1) ..... 2) ..... 3) .....


- आ) 1) ताम्रयुग 2) लोहयुग 3) अश्मयुग  
1) ..... 2) ..... 3) .....

ब) टिपा लिहा :-

(1)

1. धातूचा वापर
2. नागरी समाजव्यवस्था

क) मध्याश्मयुगीन मानवाच्या हंगामीतळाच्या कल्पना चित्राचे निरीक्षण करून पुढील प्रश्नांची उत्तरे द्या.



1. चित्रातील घरांची रचना कशी आहे?
2. हंगामी तळातील व्यक्ती कोणते व्यवसाय करित असाव्यात?

नागरिक शास्त्र

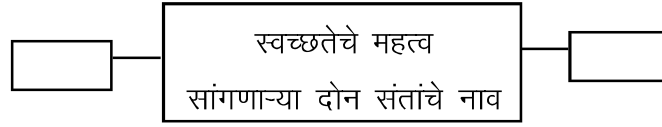
प्र. 1 ला) रिकाम्या जागी योग्य शब्द लिहा (01)

- अ. माणूस विचारक्षम असतो, तसाच तो ..... असतो  
आ. सुविधांचा वापर आपण ..... केला पाहिले.

प्र. 2 रा) पुढील प्रश्नांची दोन ते तीन वाक्यांत उत्तरे लिहा. (कोणतेही एक) (02)

1. रागाचे कोणे दुष्परिणाम होतात?
2. आपण कोणकोणत्या सार्वजनिक सुविधांचा उपयोग करतो?
3. शांततेला पूरक वातावरण कसे निर्माण करता येईल?

प्र. 3 रा) आकृति पूर्ण करो -



प्र. 4 था) तर काय होणार ते लिहा :- (कोणतेही एक) (02)

1. जर मुलामुलींना शिक्षणाचा समान अधिकार मिळाला नाही तर.....
2. जर समाज विद्यालयाला सहयोग करणार नाही तर.....